

ВЪЛШЕБНА МАТЕМАТИКА



ВЕЧЕ МОГА ДА ИЗВАЖДАМ!



4

$$12 - 2 = 10 \quad 10$$

$$5 - 3 = 2 \quad 2$$

$$16 - 5 = ?$$

9

5



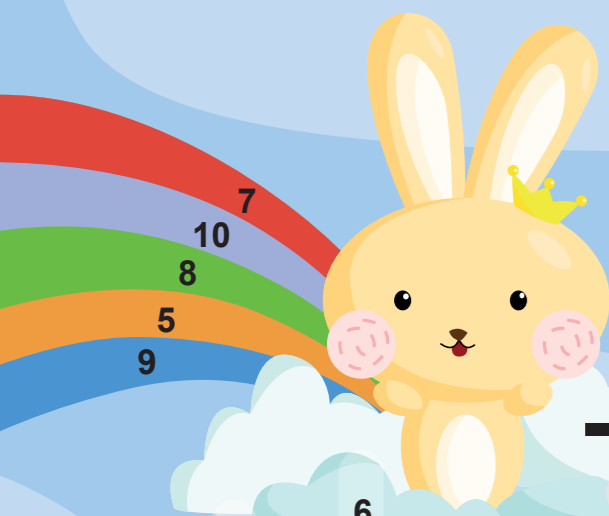
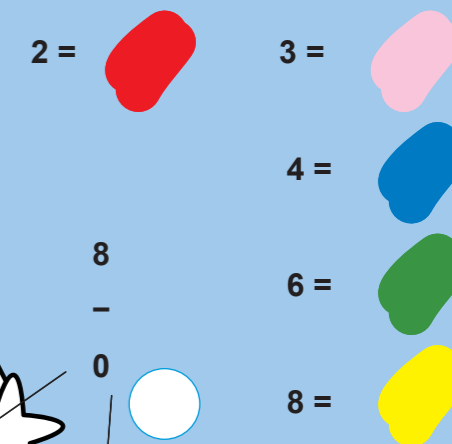

Изтъркайте и проверете
отговорите!



Изчислете разликата между двете числа и напишете отговора на мястото, отбелязано с точка. Сега изтъркайте кръгчето, за да проверите отговора.

$2 - 1 = .$	<input type="text"/>	$10 - 2 = .$	<input type="text"/>
$4 - 2 = .$	<input type="text"/>	$8 - 2 = .$	<input type="text"/>
$5 - 5 = .$	<input type="text"/>	$5 - 4 = .$	<input type="text"/>
$3 - 2 = .$	<input type="text"/>	$1 - 1 = .$	<input type="text"/>
$6 - 5 = .$	<input type="text"/>	$9 - 2 = .$	<input type="text"/>
$10 - 4 = .$	<input type="text"/>	$4 - 3 = .$	<input type="text"/>
$7 - 2 = .$	<input type="text"/>	$6 - 3 = .$	<input type="text"/>
		$10 - 5 = .$	<input type="text"/>
		$3 - 0 = .$	<input type="text"/>

Извършете изважданията и оцветете дъгата според легендата. Изтъркайте и проверете.




Следвайте цветовете на дъгата от ляво надясно и извадете числата във всеки цвят. Напишете отговора на мястото с точка. Изтъркайте и проверете.


$10 - 7 = .$	$6 - 4 = .$	$9 - 7 = .$
$8 - 5 = .$	$8 - 1 = .$	$8 - 6 = .$
$9 - 8 = .$	$4 - 1 = .$	$6 - 4 = .$



Намерете разликите и оцветете кометите с резултат 6. Правилните отговори ще откриете, като изтъркаете звездите.



Извършете изважданията. Правилните отговори ще откриете под звездите.



Пребройте перките на вятърната мелница. Извадете това число от 10 и напишете отговора в равенството долу. Изтъркайте и проверете.

$$10 - \text{ } = \text{ }$$



От числото над плашилото последователно извадете числата, написани вляво от него. Разликите напишете вдясно от плашилото. Изтъркайте и проверете.

10 -

5 .

6 .

2 .

9 .

1 .

8 -

0 .

6 .

1 .

5 .

3 .

Колко са жълтите ябълки? А червените? Напишете числата в ябълките и пресметнете разликата. Изтъркайте и проверете.

$$\text{ } - \text{ } = \text{ }$$



Пресметнете разликите. Проверете отговорите си, като изтриете кръгчетата при животните в голямата илюстрация долу.

5 - 0 = .	9 - 5 = .	9 - 1 = .
10 - 1 = .	8 - 2 = .	10 - 0 = .
8 - 7 = .	5 - 3 = .	
10 - 7 = .	10 - 3 = .	



Пресметнете разликата на числата върху всяка от оградите. Правилните отговори ще откриете в кръгчетата.

7 - 2 = .

10 - 4 = .

8 - 3 = .

4 - 2 = .